

نام و نام خانوادگی :

به نام خالق هستی

نیمسال دوم اردیبهشت ۱۴۰۱

کلاس اول - قربانی

دبستان دخترانه ی شقایق - ناحیه ۲ اهواز

سوال ریاضی

۱- علامت < = > بگذار

۴۶ ○ ۴۶

۱۵ ○ ۵۱

۵ + ۵ ○ ۴۰

۲- قبل و بعد عدد داده شده را بنویس :

○ - ○ - ○ - ۳۶ ○ - ○ - ○

۳- ساعت های زیر را حل کن :



ساعت بین و است .

جزوه سیتی

۴- به عدد و حروف بنویس : هفتاد و یک

۵۹

۵- الگویابی کن :

۴ - ۸ - ۱۲ - - -
+۴ +۴

۶- زهرا ۱۹ بادکنک دارد . او ۸ بادکنک را به آوین داد . حالا زهرا چند بادکنک دارد ؟

زهرا بادکنک دارد.

۷- نیایش ۷ مداد آبی و ۶ مداد قرمز دارد . او چند مداد دارد ؟

نیایش مداد آبی و قرمز دارد.

۸- جمع و تفریق های زیر را حل کن :

$$۴۰ + ۳۰ = \bigcirc$$

$$۱۲ + ۴ = \bigcirc$$

$$۱۰ + ۵ = \bigcirc$$

$$۶۰ - ۱۰ = \bigcirc$$

$$۱۴ - ۷ = \bigcirc$$

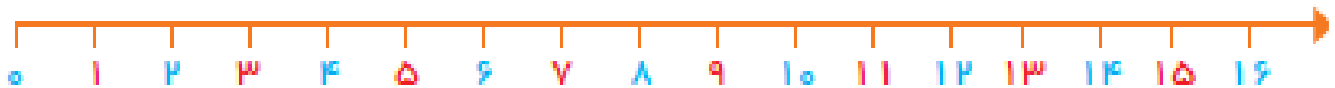
۹- با توجه به خط قرینه ، نیمه ی دیگر شکل را رنگ بزن :

سبز	سبز	آبی	آبی	سبز	سبز
زرد	زرد	آبی	آبی	زرد	زرد

جزوه سیپتی

$$۱۲ - ۸ =$$

۱۰- محور زیر را حل کن :



۱۱- برای عدد زیر شکل بکش و در جدول ارزش مکانی قرار بده.

نام و نام خانوادگی :

به نام خالق هستی

نیمسال دوم اردیبهشت ۱۴۰۱

کلاس اول - قربانی

دبستان دخترانه ی شقایق - ناحیه ۲ اهواز

پاسخنامه ریاضی

۱- علامت $< = >$ بگذار

$$۴۶ \text{ () } ۴۶$$

$$۱۵ \text{ () } ۵۱$$

$$۵ + ۵ \text{ () } ۴۰$$

۲- قبل و بعد عدد داده شده را بنویس :

۳۳ - ۳۴ - ۳۵ - ۳۶ - ۳۷ - ۳۸ - ۳۹

۳- ساعت های زیر را حل کن :



ساعت بین ۱۱ و ۱۲ است .

۴- به عدد و حروف بنویس :

هفتاد و یک ۷۱

۵۹ پنجاه و نه

۵- الگویابی کن :

$$۴ - ۸ - ۱۲ - ۱۶ - ۲۰ - ۲۴$$

+۴ +۴

۶- زهرا ۱۹ بادکنک دارد . او ۸ بادکنک را به آوین داد . حالا زهرا چند بادکنک دارد ؟

$$۱۹ - ۸ = ۱۱$$

زهرا ۱۱ بادکنک دارد.

۷- نیایش ۷ مداد آبی و ۶ مداد قرمز دارد . او چند مداد دارد ؟ $۷ + ۶ = ۱۳$

نیایش ۱۳ مداد آبی و قرمز دارد.

۸- ۱۶ جمع و تفریق های زیر را حل کن :

$$۴۰ + ۳۰ = ۷۰$$

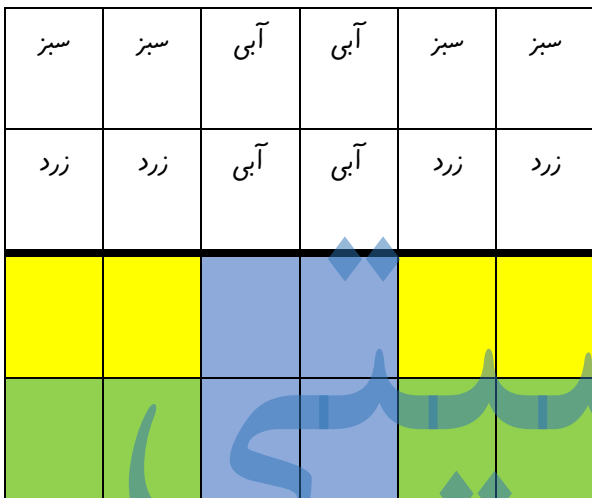
$$۱۲ + ۴ = ۱۶$$

$$۱۰ + ۵ = ۱۵$$

$$۶۰ - ۱۰ = ۵۰$$

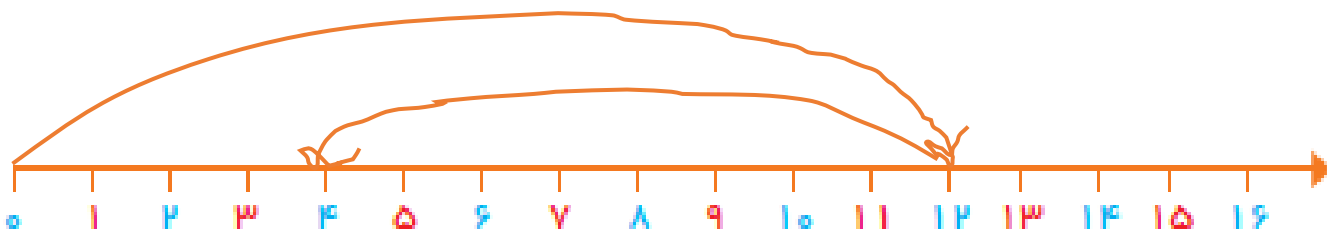
$$۱۴ - ۷ = ۷$$

۹- با توجه به خط قرینه ، نیمه ی دیگر شکل را رنگ بزن :



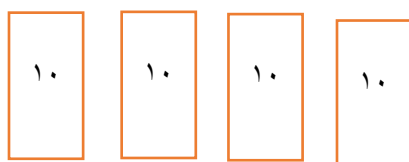
$$۱۲ - ۸ = ۴$$

۱۰- محور زیر را حل کن :



۴۳

۱۱- برای عدد زیر شکل بکش و در جدول ارزش مکانی قرار بده.



ده تایی	یکی
۴	۳